


## Spørgsmål og svar Molboløb d 5. marts 2017

Kan DU regne den ud



Hvilken kat er forskellig ?

- 1
- ☺ 2
- 3

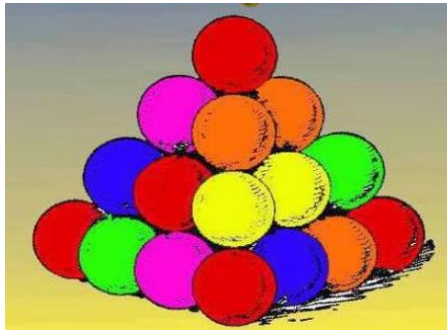


Hvor kommer bilen ud ?

- A
- B eller D
- ☺ C

På / i en indonesisk bus findes ti voksne, 24 børn, en ged, tre hunde (heraf én blind), to får og en gris. Hvor mange høns indeholder bussen?

- ☺ 0
- 12
- 38



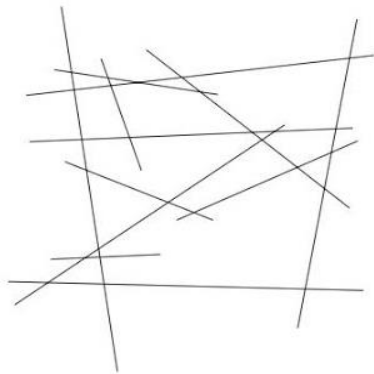
Hvor mange bolde er der i alt ?

16

20



30



Hvor mange linjer er der her ?

10



12

16

Du står i en række – som den niende fra begge ender.

Hvor mange er i i rækken



17

18

19

En vagabond laver cigaretter af skod han finder. Det kræver 4 skod at lave én cigaret Hvis han har 16 skod - hvor mange cigaretter kan han så lave.

3

4



5

Hr. Jensen har 4 døtre. Alle hans døtre har en bror. Hvor mange børn har Hr. Jensen

8

6

☺ 5

Hvis én spejderpatrolje kan hejse 14 flag i løbet af to timer, hvor mange patruljer skal der så til for at hejse det dobbelte antal flag på den halve tid

Tre

☺ Fire

Fem

Hans og Grete er tilsammen 70 år, men Hans er 20 år yngre end Grete. Hvor gammel er Grete?

25 år

35 år

☺ 45 år

Hvad er:  $7 - 4 + 3 \times 0 + 1$

3

☺ 4

5

Hvad er:  $3 + 3 \times 3 - 3 + 3$

9

☺ 12

18

Jeg har fire forskellige jakker og syv forskellige t-shirts. Jeg går aldrig til koncert i den samme kombination af t-shirt og jakke, som jeg tidligere har haft på. Hvor mange koncerter kan jeg gå til, før jeg er nødt til at købe nyt tøj?

25

☺ 28

32

Hvis de to korte sider (kateter) i en retvinklet trekant er 6 cm og 8 cm, hvor lang er så den lange side (hypotenusen)?

- ☺ 10 cm
- 12 cm
- 14 cm

The image shows a 4x1 grid of math puzzles. Each row contains an equation with icons representing numbers. Row 1: 3 snowflakes = 30. Row 2: 1 snowflake + 2 candy canes = 20. Row 3: 1 candy cane + 2 wine glasses = 9. Row 4: 1 candy cane + 1 wine glass × 1 snowflake = ?

Dette spørgsmål er udgået grundet MOLBO fejl.

- 17
- 20
- ☺ 25

Der står flere bøger i en bogreol. Den ene bog er nr. 4 fra venstre og nr. 6 fra højre. Hvor mange bøger er der på hylden.

- 8
- ☺ 9
- 10

Brian skal male numrene 1 til 100 på 100 døre. Hvor mange gange skal han male tallet 8?

- ☺ 20
- 22
- 24

Hvad er vinklen imelle den store og den lille viser når klokken viser 15.15

0 grader

☺ 7.5 grader

12 grader

Hvor mange gange om dagen overlapper den store viser den lille

20

☺ 22

24

Hvad er:  $7 + 7/7 + 7*7 - 7$

0

8

☺ 50

Hvad er:  $1 + 1 + 1 + 1 + 1 + 1 + 1 + 1 + 1 + 1 + 1 \times 0 + 1$

1

☺ 11

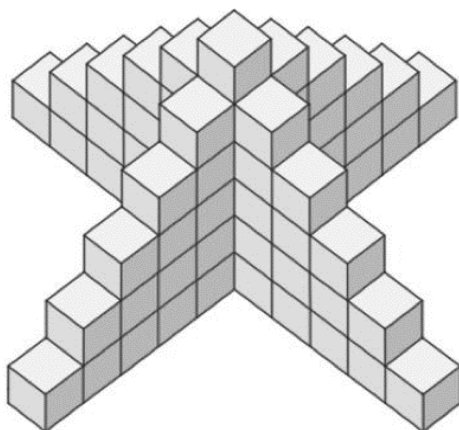
12

Du skal tælle alle som hedder Jensen, Hansen og Nielsen i danmark: Hvem er der flest af ?

☺ Nielsen

Hansen

Jensen



Hvor mange blokke er i alt ?

60

64

☺ 66

Hvilket ord passer ikke til de andre i denne remse? Kælk – sparkstøtting – cykel – skøjter – ski – kane – snesko

Kælk

Snesko



Cykel

